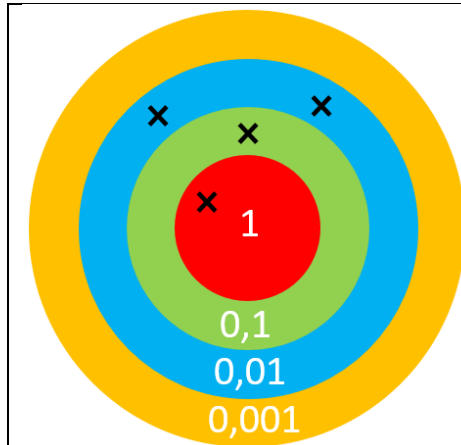
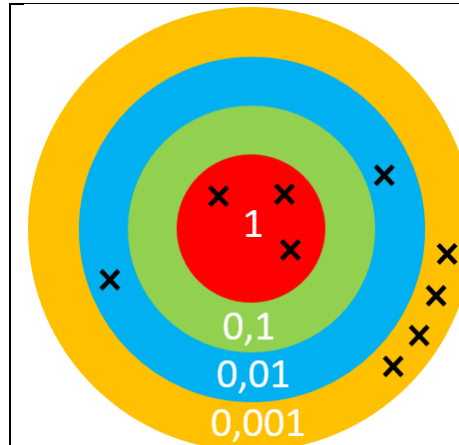


Devoirs (1)



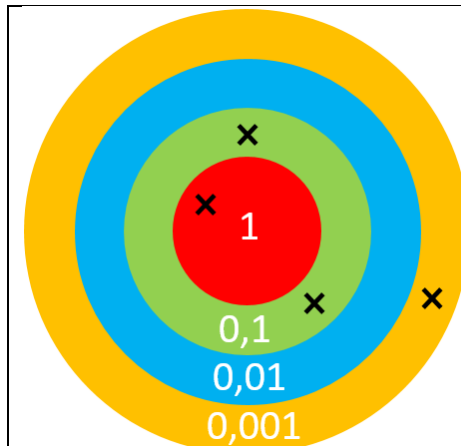
Écris le nombre désigné par la cible sous la forme d'une fraction décimale et d'un nombre décimal.

Devoirs (3)



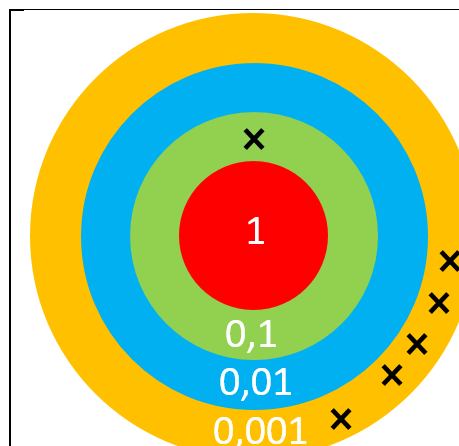
Écris le nombre désigné par la cible sous la forme d'une fraction décimale et d'un nombre décimal.

Devoirs (2)



Écris le nombre désigné par la cible sous la forme d'une fraction décimale et d'un nombre décimal.

Devoirs (4)



Écris le nombre désigné par la cible sous la forme d'une fraction décimale et d'un nombre décimal.